

NOMBRE: _____ CURSO: _____

UNIDAD 1: ZONAS NATURALES DE CHILE

OA 9.: IDENTIFICAR LAS PRINCIPALES CARACTERISTICAS DE LAS ZONAS NATURALES DE NUESTRO PAÍS.

Las zonas naturales poseen características territoriales propias que se representan en lo que se denomina relieve, en el caso de nuestro país existe cuatro formas o estructuras de relieve:

- 1- Planicies costeras o litorales
- 2- Cordillera de la Costa
- 3- Depresión Intermedia
- 4- Cordillera de Los Andes

Zona norte Grande: Se extiende desde el límite con el Perú hasta el río Copiapó e incluye las regiones de Arica y Parinacota, Tarapacá y Antofagasta.

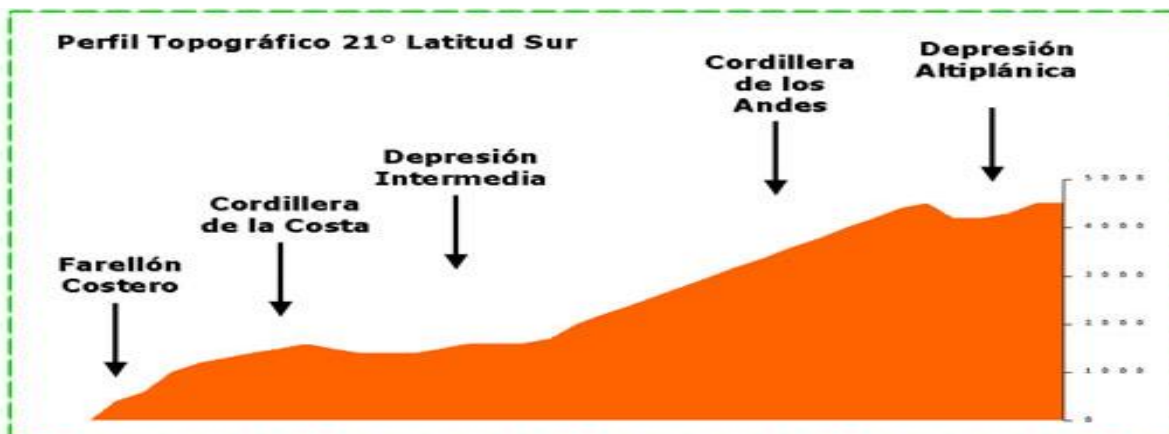
Relieve: En ella el relieve costero se caracteriza porque no presenta planicies litorales sino que inmediatamente aparece la cordillera de la Costa, la que se levanta como un farellón costero de imponentes dimensiones.

Avanzando hacia la depresión intermedia, encontramos las denominadas pampas desérticas. Una de las más conocidas es la pampa del Tamarugal, que por presentar cursos de agua subterráneas permite la existencia de una mínima vegetación de tamarugos.

En dirección hacia la cordillera de Los Andes aparecen las cordilleras altiplánicas, que se caracterizan por tener alturas irregulares y actividad volcánica.

Farellon costero:

altiplano:



*PERFIL TOPOGRAFICO: Es una representación del relieve del terreno que se obtiene cortando transversalmente las líneas de un mapa de curvas de nivel o mapa topográfico.

ZONA NORTE GRANDE: Se extiende desde el río Copiapó al río Aconcagua, regiones de Atacama y Coquimbo.

Relieve: Se caracteriza por tener cordones montañosos que atraviesan la depresión intermedia entre la cordillera de la Costa y la cordillera de Los Andes en forma transversal. Esta región natural es conocida, también como zona de los valles transversales, pues allí se originan valles estrechos, frecuentemente surcados por ríos, que dan origen a actividades agrícolas como el cultivo de vides, limones, duraznos y damascos.

Perfil Topográfico 30° Latitud Sur



ZONA CENTRAL: Se extiende desde el río Aconcagua hasta el río BíoBío e incluye las regiones de Valparaíso, Metropolitana, Del Libertador Bernardo O’Higgins, del Maule, la región del BíoBío y Ñuble.

Relieve: la principal característica de esta zona es que en ella aparecen claramente las cuatro macroformas de relieve chileno: planicie litoral, -cordillera de la Costa, depresión intermedia y cordillera de Los Andes.

En su litoral se concentran los principales puertos del país Valparaíso, San Antonio, Talcahuano, con un alto poblamiento humano.

La cordillera de la Costa presenta alturas elevadas, que actúan como un muro de contención de la influencia marina hacia el interior del continente.

La depresión intermedia es un llano longitudinal donde se ubican las cuencas de Santiago y Rancagua.

Perfil Topográfico 33° Latitud Sur



Zona: Central, **Región:** Metropolitana de Santiago, **Relieve:** Cordillera de los Andes, **Nombre:** Farellones

ZONA SUR: Comprende parte de la región del Biobío y las regiones de La Araucanía, capital Temuco, Los Ríos capital Valdivia, y Los Lagos capital Puerto Montt.

RELIEVE: La cordillera de Los Andes mantiene su carácter volcánico y los volcanes parecen avanzar hacia la depresión intermedia, ya que se pueden observar desde casi cualquier punto de esta.

Los volcanes Llaima, Villarrica, Osorno, Chaitén, entre otros junto a los numerosos lagos que ocupan los faldeos de la cordillera y la conectan con la depresión intermedia.

GUIA 2: HISTORIA, GEOGRAFIA Y CIENCIAS SOCIALES 5° BASICO LICEO AGUSTO SANTELICES VALENZUELA

La depresión intermedia se presenta muy ancha, plana y de poca altitud, lo que le otorga todas las facultades para convertirse en una zona óptima para la agricultura y ganadería. En la zona sur la depresión intermedia es recorrida por ríos de gran caudal.

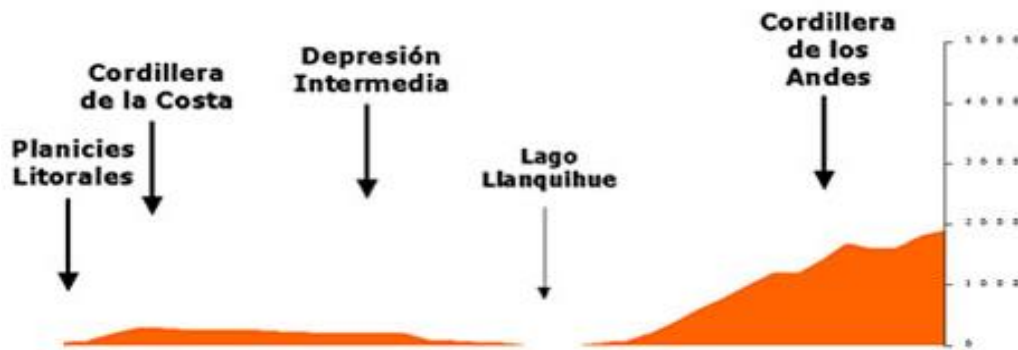
La cordillera de la Costa se levanta imponente inmediatamente al sur del río Biobío.

La cordillera de Nahuelbuta, símbolo natural de la cultura mapuche, ya que en el pasado sus cumbres estaban cubiertas de araucarias, importante fuente de recursos alimenticios de esta etnia.

En el sector de Valdivia a la cordillera de la Costa se le conoce con el nombre de cordillera Pelada y en la isla de Chiloé recibe el nombre de Piuchí y Pirulil.

Las planicies litorales se inician con gran anchura en la península de Arauco, junto a la cordillera de Nahuelbuta, desde el lago Budi hacia el sur las planicies se estrechan, excepto en la desembocadura de los ríos Calle- Calle, Cruces, Bueno y Maullín, donde vuelven a presentarse como terrazas marinas.

Perfil Topográfico 41° Latitud Sur



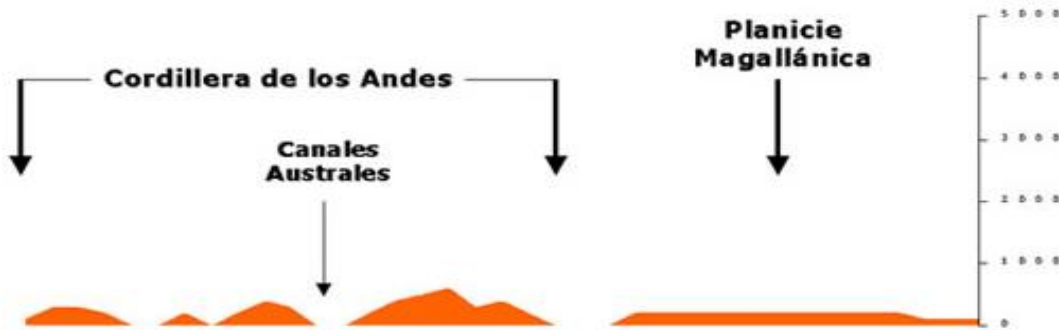
ZONA SUR AUSTRAL: Se extiende desde Chiloé hasta las islas Diego Ramírez, regiones de Aysén y Magallanes.

Relieve: La zona austral no presenta las cuatros macroformas como el resto del territorio.

Su paisaje desmembrado por el hielo y el mar se presenta como un laberinto de montañas, islas, penínsulas, golfos, bahías, ventisqueros, fiordos y canales, con una influencia marítima muy significativa.

La cordillera de Los Andes recibe el nombre de Patagónica o Antartandes ya en la Antártica, domina el paisaje si bien se trata de un relieve que ha sido severamente transformado por la erosión, principalmente glaciar. Las cumbres de esta cordillera ya no constituyen el límite con Argentina, sino que ocupan una posición más central en el territorio chileno.

Perfil Topográfico 54° Latitud Sur





GUIA 2: HISTORIA, GEOGRAFIA Y CIENCIAS SOCIALES 5° BASICO LICEO AUGUSTO SANTELICES VALENZUELA

INSTRUCCIONES: LEA CADA UNO DE LOS ENCABEZADOS DE CADA ITEM Y LUEGO RESPONDA SEGÚN LO SOLICITADO.

I- RESPONDE:

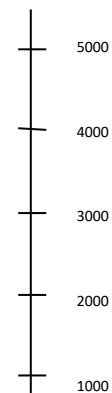
- 1- Nombre 3 volcanes: _____
- 2- ¿En qué zona se ubican los puertos más importantes de nuestro país, nombre 2? _____
- 3- "Se extienden entre el océano Pacífico y la cordillera de la Costa, desde el extremo norte hasta la isla de Chiloé, donde se hunden en el mar". ¿A qué macroforma del relieve chileno se refiere el texto? _____
- 4- Nombre 3 centros urbanos que se ubican en las planicies litorales de la zona central : _____
- 5- La depresión intermedia en la Zona Central, presenta dos grandes cuencas fundamentales para el asentamiento de la población. Éstas son: _____
- 6- Es alta, maciza y presenta gran cantidad de volcanes. Se habla de: _____

II- ¿A QUE ZONA PERTENECEN?

CARACTERISTICA	ZONA EN QUE SE UBICA
ALTIPLANO	
NAHUELBUTA	
DESIERTO FLORIDO	
ARAUCARIA	
RANCAGUA	
DESMEMBRAMIENTO	
MAULE	
LLAIMA	
ANTARTANDES	

III- REALICE UN PERFIL TOPOGRÁFICO CON TODAS LAS MACROFORMAS DEL RELIEVE:

Nombre zona: _____



IV- Busque una imagen (color o blanco y negro, no superior a 10 cm) por zona, donde se identifique la zona, región, el relieve y el nombre del lugar (sirve de ejemplo la imagen que se encuentra en la zona central).



GUIA 2: HISTORIA, GEOGRAFIA Y CIENCIAS SOCIALES 5° BASICO LICEO AUGUSTO SANTELICES VALENZUELA

*Las imágenes pueden ser recortes de revistas, fotocopias del libro de la asignatura, impresiones, e incluso dibujos, lo importantes es que se identifique las cuatro cosas que se solicitan.