



**TICKET DE SALIDA**

**MATEMÁTICA 3 BÁSICO**

NOMBRE:	3° BASICO A/B
<b>Objetivos:</b> OA_1: Contar números del 0 al 1000 de 5 en 5, de 10 en 10, de 100 en 100. OA_2 : Leer números hasta 1000, representados en forma pictórica y simbólica. OA_3: Comparar y ordenar números en la recta numérica.	
<b>instrucciones:</b> <ul style="list-style-type: none"> <li>✓ Busca tu lápiz y tu goma.</li> <li>✓ Escribe el nombre y el curso que corresponde.</li> <li>✓ Lea, piense y responda o marque lo que se pregunta.</li> <li>✓ Si no se sabe alguna respuesta de este ticket de cambio, no se ponga nervioso, apóyese con su libro del estudiante.</li> <li>✓ Al terminar este ticket de cambio, le pedirá a algún adulto que tome foto a cada pregunta con su respuesta y se la envíe a la profesora</li> </ul>	

I. **REPRESENTA LA CANTIDAD DE DINERO CORRESPONDIENTE A CADA MONEDA. LUEGO, ESCRIBE EL MONTO TOTAL EN CIFRAS Y PALABRAS.**

	
<b>7 monedas</b>	<b>9 monedas</b>






Con cifras:

Con palabras: \_\_\_\_\_

II. **COMPLETA LA SECUENCIA:**

De 100 en 100 a partir del número hacia adelante:

390					
-----	--	--	--	--	--

De 10 en 10 a partir del número hacia adelante:

374					
-----	--	--	--	--	--

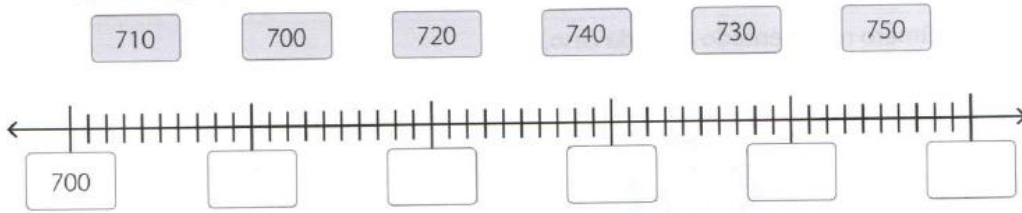
De 5 en 5 a partir de número hacia atrás;

					166
--	--	--	--	--	-----

**DE 10 EN 10 HACIA ATRÁS**




**III. UBICA EL SIGUIENTE GRUPO DE NÚMEROS EN LA RECTA NUMÉRICA.**



**IV. RESPONDA LAS SIGUIENTES PREGUNTAS. PARA ELLO, ENCIERRA LA ALTERNATIVA QUE CONSIDERES CORRECTA.**

1. ¿Cuál es el número que falta en la siguiente recta numérica?

- a. 464
- b. 466
- c. 470
- d. 474



2. ¿Qué números completan la siguiente secuencia?

- a. 536, 736
- b. 447, 647
- c. 546, 746
- d. 500, 700



3. ¿Cuál es el número que se representa a continuación?

- a. Ciento treinta y cinco
- b. Ciento tres cinco
- c. Treinta y cinco
- d. Ciento cinco



4. ¿Cuál es el mayor número de tres cifras que se puede formar con los siguientes dígitos?

- a. 475
- b. 457
- c. 745
- d. 754



**V. ESCRIBE CON PALABRAS LOS SIGUIENTES NÚMEROS. (Evita faltas de ortografía)**

- 456: \_\_\_\_\_
- 897: \_\_\_\_\_
- 739: \_\_\_\_\_
- 918: \_\_\_\_\_
- 672: \_\_\_\_\_

**LISTO TU TICKET DE SALIDA**